

6.



Mert'in ailedeki rolü için aşağıdakilerden hangisi söylenemez?

- A) Çocuk B) Torun
C) Öğrenci D) Abi

7. I. Günlük yaşamda çeşitli gruplar içerisinde bulunuruz. (D)
II. Her grupta üstlendiğimiz roller farklılık göstermez. (Y)
III. Toplumdaki rollerimiz zamanla değişir. (Y)
IV. Kişi üyesi olduğu grubun rollerini yerine getirmelidir. (D)

Yukarıda verilen cümlelerin hangisi yanlış işaretlenmiştir?

- A) I B) II C) III D) IV

8. Mehmet Akif ortaokulu 6. sınıf öğrencisiyim. Bu okulda alabileceğim roller gereği sorumluluklarım var.



Aşağıdakilerden hangisi bu sorumluluklarımdan birisi olamaz?

- A) Okula zamanında gelmek.
B) Okulun temizliğini yapmak.
C) Okul araç ve gereğine zarar vermemek.
D) Derslerime çalışmak.

9. Her sosyal rolün toplum tarafından belirlenen davranış kalıpları vardır. Bireyler rollerinin gereği olan bu davranışları yapmak zorundadırlar.

Aşağıdakilerden hangisi buna örnek olarak gösterilemez?

- A) Bir öğrencinin kendisine verilen ödevleri yapması
B) Polisin suçluyu yakalaması
C) Pilotun uçak kullanması
D) Babanın evin geçimine katkı sağlamaması

10. Bireyin kendi çabası ve başarısı ile elde ettiği rolü aşağıdakilerden hangisidir?

- A) Çocuk B) Ergen
C) Meslek D) Akraba

11. Bir öğrenciden okula gitmesi, anneden çocuğuna bakması, bir doktordan hastasını tedavi etmesi beklenir.

Buna göre aşağıdakilerden hangisine ulaşılabilir?

- A) Her rolün kendine göre sorumlulukları vardır.
B) Bazı roller doğuştan kazanılır ve devam eder.
C) Kişinin birden fazla rolü varsa sadece birinin sorumluluklarını yerine getirir.
D) Bireyin yaşı ilerledikçe rolleri de çoğalır.

1.



Öğretmenin sorusuna hangi öğrenci yanlış cevap vermiştir?

A)



B)



C)



D)



2.



Kurulduğu günden itibaren müslümanların yaşamında önemli bir yere sahip olan camiler, bugün de aynı konularını muhafaza etmektedir. Günümüzde camiler, öncelikle ibadet yeri olma özelliğine sahiptir. Milyonlarca insan beş vakit namaz, cuma namazı, bayram namazlarında ibadet maksadıyla camilere gelmektedir.

Buna göre camilerimiz için; aşağıdaki yargılardan hangisine ulaşamaz?

- A) Toplumda insanlara birlik ve beraberlik ruhunu kazandırır.
B) Toplumsal dayanışmanın temelleri atılır.
C) İnsanların birbirleriyle kaynaşmasını sağlar.
D) Toplumda dinsel ayrılıklara sebepdir.

3.



Hatay'ın Havsra ilçesi Hacılar Köyünde "5. Geleneksel Üzüm Festivali ve Kaynaşma Günü" etkinlikleri düzenlendi. Festivalde mehter takımının gösterisi, halk oyunları, deve güreşi ve en iyi üzüm yetiştiricisi seçildi.

Yukarıdaki parçaya göre;

- I. Bu tür etkinlikler insanlar arasında dayanışma sağlıyor.
II. Festivaller toplumsal barışa katkıda bulunuyor.
III. Festivaller ve buluşma günleri toplumda birlik ve beraberliğin oluşmasını sağlıyor.

yargılarından hangisine ulaşılabilir?

- A) Yalnız I
B) Yalnız III
C) I ve II
D) I, II ve III

4.

Bayramlar ortak değer ve ortak mirasların bir sonucu olarak tarih boyunca devam edegelmiş özel günlerdir. Milli bayramlar, bizim toplumumuzda genelde bir savaşta, bir felaketten barışa ve huzura çıkma günleri olarak tarihte yerini almıştır.

Bu tür günler;

- I. Milli birlik ve beraberlik duygu ve düşüncelerini pekiştirir.
II. Toplumdaki bireyleri birbirine yaklaştırır.
III. Tüm müslüman toplumlarda kutlanır.

Yukarıdakilerden hangisi doğru bir yargı değildir?

- A) Yalnız I
B) Yalnız III
C) I ve II
D) II ve III

5. "Tarihi olmayan milletlerin geçmişi olamayacağı gibi geleceği de olamaz."

Sözünü aşağıdaki cümlelerden hangisi ile açıklayabiliriz?

- A) Bir toplumu millet yapan en önemli unsur tarih bilincidir.
B) Tarih bilinci nesillerin devamlılığını sağlar.
C) Tarih bir milletin geçmiştir.
D) Tarih bilinci geleceğe yön verilmesinde etkilidir.

6.



Geçmişimi öğreniyorum.

Tarih dersine büyük ilgi duyan Ebru için;

- I. Milli değerlerini ve kültürünü tanır.
II. Sorumluluk ve vatandaşlık duygusu gelişir.
III. Milli bilinç kazanır.
IV. Geçmişine yön verir.

Yukarıdakilerden hangisine ulaşamaz?

- A) I B) II C) III D) IV

7. "Dil, milli kültürün en önemli unsurudur." **sözü ile dil;**

- I. Milleti oluşturan fertleri birbirine bağlar.
II. Kültür değerlerimizin gelecek kuşaklara aktarılmasını sağlar.
III. Toplumdaki bireylerin birbirini anlamasını sağlar.

Yukarıdakilerden hangisi ile açıklanabilir?

- A) Yalnız I B) Yalnız III
C) I ve II D) I, II ve III

8. I. Din, dil ve tarih gibi kültürü oluşturan unsurlar toplumsal birlikteliği sağlar.
II. Örf ve adetler toplumda bireylerin kaynaşmasını sağlar.
III. Teknoloji ile birlikte kültürümüze yabancı unsurlar girmiştir.
IV. Yabancı kültürleri benimseyen milletler daha çabuk kaynaşır.

Yukarıda verilen bilgilerden hangisi doğru bir bilgi değildir?

- A) I B) II C) III D) IV

9. Bir toplumun maddi ve manevi kültür öğelerinin bir şekilden başka bir şekle geçmesine, yapısının başkalaşmasına kültür değişimi denir.

Bu değişimler daha çok;

- I. teknolojik yenilikler
II. savaşlar
III. göçler

Yukarıdakilerden hangileri ile gerçekleşir?

- A) I – II B) I – III
C) II – III D) I – II – III

10. I. İnsanların bir arada yaşamaları için adetlerin uygulanması şarttır. (Y)
II. Tüm adetler değişmeden yıllarca devam eder. (D)
III. Toplumsal yaşamın oluşmasında ve sürdürülmesinde geleneklere büyük görevler düşer. (D)
IV. Misafirperverlik, zor durumda olana yardımcı olmak gelenek ve göreneklerimize örnek gösterilebilir. (Y)

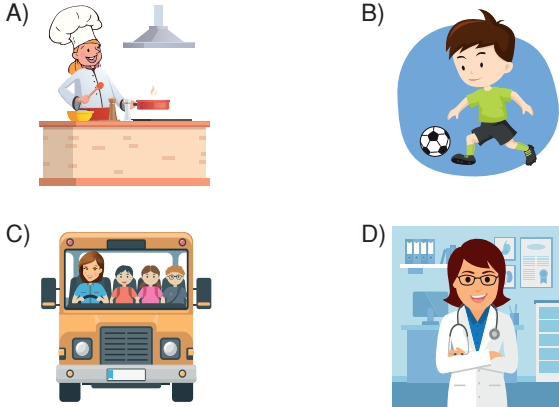
Yukarıdaki cümlelerde (D) – (Y) yanlış işaretleme yapılmıştır. Yanlışlık yapılanlar aşağıdakilerden hangisidir?

- A) I – IV B) I – III
C) III – IV D) I – II

1. Aşağıda verilen bilgilerden hangisi ön yargıyı en kapsamlı şekilde anlatmaktadır?

- A) Ön yargı bir kişi ya da olaya ilişkin yeterli bir bilgi edinmeden, önceden, peşin bir karara varmış olma durumudur.
B) Ön yargı kişinin, topluluğun ve nesnenin karşısında olmak veya olmamak durumudur.
C) Ön yargı bir taraf tutma biçimidir.
D) Ön yargılar genellikle olumsuz olur.

2. "Erkek yapar, kadın yapamaz" ön yargısına örnek olabilecek görsel aşağıdakilerden hangisidir?



3. Önyargıların oluşmasıI..... başlar.II..... devam eder.III..... tarafından da desteklenir.

Yukarıdaki noktalı yerlere aşağıdakilerden hangisi yazılamaz?

- A) Medya
B) Devlet
C) Okul
D) Aile

4.



Derin

Önyargılara sahip bir toplumda yaşıyorum.

Derin'in yaşadığı toplumda aşağıdakilerden hangisi görülmez?

- A) Arkadaşlık, dostluk gibi bağların kurulması zor olur.
B) İnsanlar birbirinden uzaklaşır, birlik ve beraberliğin oluşması zorlaşır.
C) İnsanlar arasında güvensizlik oluşur.
D) Ortak işlerde iş bölümü ve dayanışma vardır.

5. Ön yargıların oluşmasında

- I. aile
II. gelecekte yaşanacaklar
III. toplum
IV. gelenekler

yukarıdakilerden hangisinin etkisinin olduğu söylenemez?

- A) I
B) II
C) III
D) IV

6. ODTÜ öğrencileri, kültürel, mesleki, cinsel kimlikleri ya da sağlık durumları gibi nedenler sonucu önyargılara maruz kalabilen veya toplum tarafından dışlanan insanlara karşı olan önyargıları azaltmak için canlı kitaplardan oluşan yaşayan kütüphane'yi kurdu. Kütüphaneye kitap okumaya gidenler önyargılarının bulunduğu konuları kitaptan değil, bir insanla sohbet ederek yıkıyor.

Buna göre ODTÜ'lü öğrenciler,

- I. İkili ilişkilerin önyargıları yok edebileceğini
II. Önyargıların azaltılmasında diyalog ortamının daha etkili olabileceğini
III. toplum tarafından dışlanan insanlara karşı olan önyargıların azaltılabileceğini

yukarıdakilerden hangisini veya hangilerini gerçekleştirmek istemişlerdir?

- A) Yalnız I
B) Yalnız III
C) I ve II
D) I, II ve III

7.



Hindistan'a seyahat yapmayı düşünen bir turist Hindistan hakkında, şu bilgileri öğrenmiştir.

- I. Kültürel gerginliğe sahip olduğunu
- II. hareketli dansları olduğunu
- III. Kıyafetlerinin toplumsal sınıflara göre olduğunu
- IV. Dünyanın en kalabalık ikinci ülkesi olduğunu

Bu bilgilerden hangisi Hindistan'da ön yargıların olduğunu kanıtlar niteliktedir?

- A) I B) II C) III D) IV

8. I.



II.



III.



IV.



Yukarıdaki görsellerden hangisi, Japon kültürleri yansıtmaktadır?

- A) I B) II C) III D) IV

9. İnsanlar arasında benzerlikler olduğu kadar farklılıkların da olması doğaldır.

Aşağıdakilerden hangisi insanlar arasındaki farklılıklardan birisi değildir?

- A) Saç rengi B) Dini
C) Ten rengi D) İnsan olması

10. Osmanlı döneminde, Türkler müslüman ve hristiyan farkı gözetmeksizin herkesi dini inançlarında serbest bırakmıştır. Ülkemizde Osmanlı döneminden günümüze kadar varlığını devam ettirerek gelen ibadet yerleri bulunmaktadır.

Buna göre aşağıdakilerden hangisi söylenemez?

- A) Osmanlı toplumunda farklı kültürlere saygı duyulmuştur.
B) Herkes inanç ve ibadetinde serbest bırakılmıştır.
C) Farklı inançlara karşı baskı uygulanmıştır.
D) Osmanlı toplumundan hoşgörü hakimdir.

11.




Mert

Kısa boylu olduğum için sınıfta en önde ben oturuyorum. Esin benden daha uzun boylu olduğu için sınıfın en arkasında oturuyor ve aynı zamanda da okulun basketbol takımında oynuyor.

Mert'in anlatımına göre aşağıdaki yargılardan hangisine ulaşılabilir?

- A) İnsanları farklı kılan özellikleri vardır.
B) Farklılıklar insanları gruplaştırır.
C) Farklılıklarımız bazı işleri yapmamızı engeller.
D) Bireysel farklılıklarımızı değiştirebiliriz.

1.



Geçtiğimiz yıllarda Türkiye’de kuş gripinin görülmesi üzerine bazı bölgelerde karantina uygulaması yapıldı. Aynı zamanda tavuk ve yumurta tüketimi azaldı.

Buna göre,

- I. İnsan sağlığına önem verilmiştir.
 - II. Yumurta ihracatı artmıştır.
 - III. Yaşanan olumsuzluklara duyarsız kalınmamıştır.
- çıkarımlarından hangilerine ulaşılabilir?**

- A) Yalnız I B) I ve III
C) I ve II D) II ve III

2. Çeşitli hastalıklar ve kazalar sonucunda insanların çeşitli doku ve organlarında bozulmalar meydana gelebilir. Bozulan doku ve organlar görevlerini yerine getiremediği için bunların yerine yenilerinin nakledilmesi gerekir. Buna doku ve organ nakli denir. Her insan bir gün kendi başına da gelebileceğini düşünerek doku ve organ bağıışı konusunda daha duyarlı olmalıdır.

Buna göre, doku ve organ bağıışının toplumda;

- I. Toplumsal dayanışma ve yardımlaşmanın güçlenmesi,
 - II. İnsan sağlığının tehlikeye düşmesi,
 - III. Toplumsal duyarlılığın azalması
- durumlarından hangilerine ortam hazırladığı söylenebilir?**

- A) Yalnız I B) Yalnız II
C) I ve II D) II ve III

3.

Kan bağıışının, kilo alma, zayıflama, bağıımlılık gibi yan etkileri yoktur.



Zübeyde

Kan bağıışından sonra vücuttan eksilen kan çok kısa bir süre içinde yenilir.



Sibel

Kan bağıışı toplumsal dayanışmayı güçlendirir.



Nimet

Yukarıdaki öğrencilerden hangilerinin kan bağıışı ile ilgili verdiği bilgiler doğrudur?

- A) Yalnız Zübeyde
B) Zübeyde ve Sibel
C) Sibel ve Nimet
D) Zübeyde, Sibel ve Nimet

4.



Yukarıdakilerden hangileri toplumsal dayanışma ve yardımlaşma duygularını güçlendirmez?

- A) Yalnız 1 B) Yalnız 2
C) Yalnız 3 D) 1, 2 ve 3

5.



Bugün karnemi aldıktan sonra babamla birlikte bir alışveriş merkezine karne hediyesi almaya gittik. Yeni bir bilgisayar satın aldık. İki gün sonra bilgisayar problem çıkarınca faturasıyla birlikte mağazaya geri götürdük fakat satıcı bize sorun çıkardı ve ürünü geri almak istemedi. Biz de bilinçli bir tüketici olarak şikâyet etmeye karar verdik.

Bu durum karşısında;

- I. Tüketici Hakları Derneği
- II. Tüketici Mahkemesi
- III. Reklam Kurulu

gibi kurumlardan hangilerine başvurularak sorunun çözümü gerçekleştirilebilir?

- A) Yalnız I
- B) Yalnız II
- C) I ve II
- D) I, II ve III

6.

Türkiye Cumhuriyeti Anayasası'na göre; "Vatandaşlar şikâyetlerini dilekçe ile ilgili makamlara iletebilirler. Kendisine başvuru makamı başvuru sonucunu dilekçe sahiplerine yazılı olarak bildirir."



Bu bilgiye göre, aşağıdaki çıkarımlardan hangisi yapılamaz?

- A) Dilekçe hakkı, bireyler ile kurumların iletişimde etkilidir.
- B) Dilekçeler ilk önce TBMM'ye gönderilmelidir.
- C) Kurumlar dilekçelere cevap yazmak zorundadır.
- D) Anayasa'da vatandaşa dilekçe hakkı verilmiştir.

7.



İstanbul Sultanbeyli Sağlık Grup Başkanlığının bölgede rutin olarak yaptığı inceleme, vatandaşların yoğun olarak kullandığı kaynak sularının kirli olduğunu ortaya koydu. Çeşmelere uyarı levhaları asıldı ancak dinleyen yok.

Gazete haberindeki bilgilere göre Sultanbeyli'de aşağıdakilerden hangisinin gerçekleşmesi beklenebilir?

- A) Salgın hastalıkların
- B) Ekonomik sorunların
- C) Çevre sorunlarının
- D) Doğal afetlerin


8. Tüketici hakları ihlalleri için başvurulacak yerler aşağıdaki tabloda bazı sembollerle gösterilmiştir.

| | |
|---|--------------------------|
| * | Tüketici Hakları Derneği |
| ■ | Tüketici Mahkemesi |
| ● | Karakollar |
| ▲ | Tüketici Hakları Merkezi |

Hangi sembol ile gösterilen bilgi yanlıştır?

- A) *
- B) ■
- C) ●
- D) ▲

1.

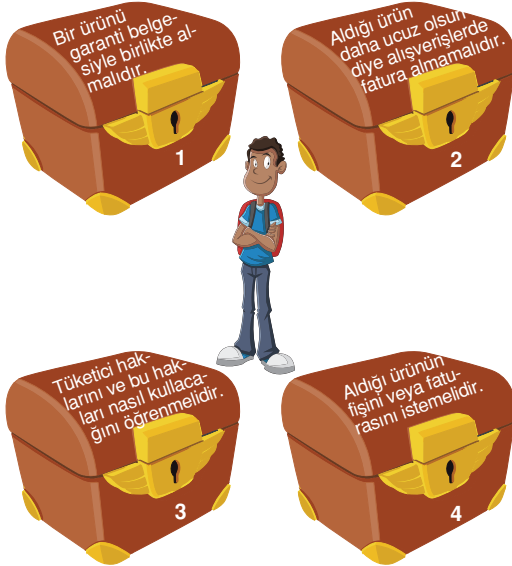


Ağaçtaki sincap topladığı fındıkları, üzerinde tüketici hakları ihlallerinde başvurulabilecek yerlerin bulunduğu sepetlere atacaktır.

Buna göre, sincap hangi sepete fındık atmamalıdır?

- A) 1 B) 2 C) 3 D) 4

2.



Mert, bir tüketicinin sahip olması gereken sorumlulukları öğrenmek istiyor.

Buna göre, kaç numaralı sandığı açarsa, yanlış bir bilgiye ulaşmış olur?

- A) 1 B) 2 C) 3 D) 4

3. Sorumluluk bilincinin gelişmediği toplumlarda;

- I. Toplumsal sorunlar artar.
- II. Hakların kullanımı güçleşir.
- III. Kargaşa ortamı oluşur.

durumlarından hangilerinin görülmesi beklenebilir?

- A) Yalnız I B) Yalnız III
C) I ve II D) I, II ve III

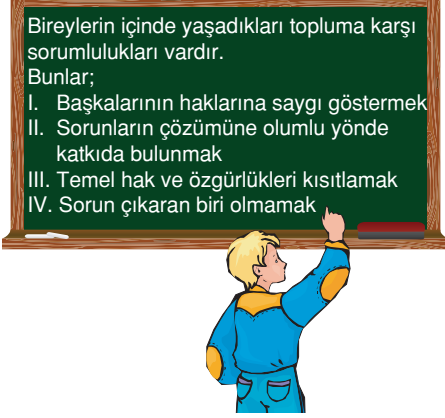
4. Aşağıdaki uçak karşılaştığımız sorunları çözmek için izlememiz gereken yolların bulunduğu alanlara inecektir.



Buna göre uçak, hangi alana inmemelidir?

- A) Dilekçe vermek
B) Sorunları yetkili makamlara iletmek
C) Tüketici derneklerine başvurmak
D) Sorunları görmezden gelmek

5.



Sosyal bilgiler dersinde Deniz'in tahtaya yazdığı yukarıdaki bilgilerden hangisinin doğru olduğu söylenemez?

- A) I B) II C) III D) IV

6. Sosyal bilgiler dersinde sınav yapan öğretmenin sorduğu sorulardan biri "Tüketici ihlallerinde nerelere başvurulabilir?" sorusudur.

Ceren, bu sorunun cevabı olarak yazılı kâğıdına, aşağıdakilerden hangisini yazarsa **yanlış** olur?

- A) Belediyeler
B) Muhtarlıklar
C) Tüketici Mahkemesi
D) Tüketici Hakları Derneği

7.

Dilekçe hakkı; bilgi edinmeyi, dilek ve önerilerde bulunmamızı sağlayan demokratik haklarımız arasındadır.



Kişiyeye göre değişen bilgilere görüş denir.



Herkes tarafından kabul edilen, kanıtlanabilir bilgilere olgu denir.



Sosyal bilgiler dersinin sınavı için konu tekrarı yapan çocuklardan hangileri doğru bilgi vermiştir?

- A) Yalnız Berk B) Elif ve Emir
C) Emir ve Berk D) Elif, Emir ve Berk

8.



Sorumluluklarımızı bilip yerine getirmek, karşılaştığımız sorunları çözmeyi kolaylaştırır. Tüketiciler de sorumluluklarını yerine getirirlerse tüketici sorunlarını çözmek daha da kolaylaşır.

Buna göre aşağıdakilerden hangisi tüketici sorunlarının çözümünde etkili olan ve tüketicilerin yerine getirmesi gereken sorumluluktan biri **değildir**?

- A) Tüketici haklarını bilmek
B) Fiş ya da fatura almak
C) Marketlerden alışveriş yapmak
D) Garanti belgesini istemek

1.

Temel hak ve hürriyetlerin kullanılmasının kısmen veya tamamen durdurulabildiği durumlara örnek verebilir misiniz?



Sosyal bilgiler öğretmenin bu sorusuna, aşağıdaki öğrencilerden hangisi **yanlış** cevap vermiştir?

- A) Savaşlar
- B) Seferberlik
- C) Sıkıyönetim
- D) Genel seçimler

2. Aşağıdakilerden hangisi bireyin toplumda haklarını koruduğuna kanıt olarak gösterilebilir?

- A) Tıp eğitimi almak istemesi
- B) Kendisine hakaret eden kişiyi mahkemeye vermesi
- C) Öğrendiklerini arkadaşlarına anlatması
- D) Sosyal bilgiler dersinin sınavında kötü not alması

3.



Zeynep

Evli ve 2 çocuğum var. Halen Piri Reis ortaokulunda öğretmenim.

Zeynep hanım rolleri gereği aşağıdaki hangi görevleri yapmaz?

- A) Çocukların eğitim - öğretimiyle ilgilenir.
- B) Evin geçimine katkıda bulunmaz.
- C) Sabah kahvaltısı hazırlar.
- D) Evi toplar ve ihtiyaçları karşılar.

4.



Orçun

Büyüyünce doktor olmak istiyorum.

Aşağıdakilerden hangisi Orçun'un doğuştan kazandığı rollerinden birisi **olamaz**?

- A) cinsiyeti
- B) etnik kökeni
- C) Doktor
- D) Dini

5.



Aşağıdakilerden hangisi Duru'nun okulda alabileceği rollerden birisi **olamaz**?

- A) Öğrenci
- B) Sınıf başkanı
- C) Öğretmen
- D) Sınıf temsilcisi

6. Toplumunu bir arada tutan yardımlaşma ve dayanışmadır. Ülkemizde yardımlaşma ve dayanışma alanında pek çok sivil toplum örgütü bulunmaktadır.

- Kızılay
- Yeşilay
- Akut
- LÖSEV
- ÇEVKO
- Türk Eğitim Vakfı
- Türk Hava Kurumu
- Türk Kalp Vakfı

Yukarıda verilen sivil toplum örgütlerinden hangileri doğal afetlerde yardımlaşmanın en güzel örneğini sergiler?

- | | |
|--------------------|----------------------|
| A) Kızılay | B) ÇEVKO |
| Akut | LÖSEV |
| C) Türk Kalp Vakfı | D) Türk Eğitim Vakfı |
| Türk Hava Kurum | Yeşilay |

7. Salgın hastalık durumlarında hastalara yardım eder. Aşevleri açar, yoksul kimsesiz, düşkün yurttaşlara yiyecek ve içecek verir. Sel, deprem, savaş gibi durumlarda halkın yardımına koşar.

Yukarıda anlatılan yardım kuruluşumuz aşağıdakilerden hangisidir?

- | | |
|------------|------------|
| A) Yeşilay | B) Kızılay |
| C) Akut | D) ÇEVKO |

8. Türk halkının tarihte gösterdiği en önemli dayanışma örneği aşağıdakilerden hangisidir?

- A) Kurtuluş savaşının kazanılması için kadın – erkek herkes seferber olmuştur.
- B) Milli maçlarda takımını desteklemiştir.
- C) Doğal afetlerde afetzedelere yardım elini uzatmıştır.
- D) Kapılarını ihtiyacı olanlara açmıştır.

9.



Gaye

Evdeki

| <u>Haklarım</u> | <u>Sorumluluklarım</u> |
|---------------------|--------------------------------|
| I. Beslenmek | a. Derslerime çalışmak |
| II. Odamı toplamak | b. Ev işlerinde yardımcı olmak |
| III. Oyun oynamak | c. Kardeşime bakmak |
| IV. Sınırsız sevmek | d. Eğitim almak |

Gaye evdeki hakları ve sorumluluklarını karıştırmış doğru olabilmesi için hangileri yer değiştirmelidir?

- | | |
|------------|-----------|
| A) I – d | B) IV – a |
| C) III – b | D) II – d |

10.



Sevgi

Barışın hâkim olduğu bir dünyada yaşamak istiyorum.


Sevgi'nin bu dileğinin gerçekleşebilmesi için aşağıdakilerden hangisini yapmamalıyız?

- A) Ön yargılarımızdan arınmalıyız.
- B) Herkesin hayat tarzına, düşüncesine, inancına saygı duymalıyız.
- C) Farklılıklara saygı duymalıyız.
- D) Herkese karşı hoşgörülü davranmak zorunda değiliz.

1. Aşağıdaki önermeler doğruysa başına “D”, yanlış ise “Y” yazınız.

- a. Orhun Kitabeleri Türklerin bıraktığı ilk yazılı belgedir.
- b. Göktürkler modern tarımla uğraşmışlar, bunun için kanallar açmışlardır.
- c. İpek Yolu önemli bir ticaret yolu olduğu için devletler arasında mücadelelere sebep olmuştur.
- d. Talas Savaşı'yla birlikte Arap ve Türklerin yakınlaşması, Türklerin İslamiyeti benimsemelerinde önemli rol oynamıştır.
- e. Emeviler Dönemi'nde Müslüman olmayan Araplara ikinci sınıf vatandaş muamelesi yapılmamış, herkese eşit davranılmıştır.

2. Aşağıda verilen boşlukları uygun kelimelerle doldurunuz.



- a. , yerleşik hayata geçen ilk Türk devletidir.
- b. İslamiyet öncesi ilk Türk Devletleri'nde ülkenin doğu ve batı şeklinde ayrılıp Kağan'ın ülkeyi doğudan yönettiği sisteme denir.
- c. İslamiyeti kabul eden ilk Türk Devleti'dır.
- d. Yusuf Has Hacip tarafından yazılan , “mutluluk veren bilgi” anlamına gelir ve bir siyasetname özelliği taşır.
- e. Mekkeli Müslümanların baskılara dayanamayıp Medine'ye göç etmesine denir.

3. Uygun eşleştirmeleri yapınız.



Manas
Destanı

a.



Oğuz Kağan
Destanı

b.



Atabetül
Hakayık

c.



Satuk Buğra
Han Destanı

d.



Kutadgu
Bilig

e.



Orhun
Kitabeleri

f.



Divan-ı
Hikmet

g.



Türeyiş
Destanı

h.



Divan-ı
Lügatit Türk

i.

Yusuf Has
Hacip

Uygurlar

Edip Ahmet
Hüknevi

Göktürkler

Ahmet
Yesevi

Kaşgarlı
Mahmut

Karahanlılar

Kırgızlar

Hunlar

Kaşgarlı
Mahmut

1. MÖ 318 yılında Çin ile Hunlar arasında Kuzey Şansi Savaşı yapılmıştır. Bunun sonucunda yazılan Çince antlaşma metninde ilk kez Hun adına rastlanmıştır.

Buna göre;

- I. Hunlarla ilgili en eski yazılı kaynak Çinlilere aittir.
II. Hunlar ve Çinliler siyasi mücadeleler yaşamıştır.
III. Göçebe yaşam Hunların Çinlilerle yakınlaşmasını sağlamıştır.

yargılarından hangilerine ulaşılabilir?

- A) Yalnız I
B) Yalnız II
C) I ve II
D) I, II ve III

2. Doğu Türkistan'da eski Uygur harabelerinde yapılan kazılarda;

- I. Sulama kanalları
II. Binalar ve tapınaklar
III. Deri ve kumaş dokumaları
IV. Tarım aletleri bulunmuştur.

Bu bilgilerden hangileri Uygurlar Dönemi'nde yerleşik yaşama geçildiğine kesin kanıttır?

- A) II ve III
B) I, II ve IV
C) I ve IV
D) I, III ve IV

3.



Türkler ana yurtları olan Orta Asya'dan çeşitli nedenlerle göç etmişlerdir. Bu göçlerin kimi ekonomik, kimi sosyal kimi ise siyasi niteliklidir.

Buna göre aşağıdakilerden hangisi, Türklerin Orta Asya'dan göç etmelerinde etkili olan siyasi nedenlerdendir?

- A) Salgın hastalıklar
B) Nüfus artışı
C) Çin ve Moğol baskısı
D) İklim koşullarının değişmesi

4. Aşağıdaki arabalarda belirtilen İslamiyet öncesi Türk devletlerinden hangisi hem Asya hem de Avrupa'da devlet kurmuştur?

A)



B)



C)



D)



5. Kök Türkler gaza ve cihat anlayışı doğrultusunda savaşmışlardır.
- Uygurlar kalıcı mimari eserler bırakmışlardır.
- Asya Hun Devleti tarihte bilinen ilk Türk devletidir.
- Avrupa Hun Devleti'nin en ünlü hükümdarı Attila'dır.
- Ayşenur
- Özge
- Selin
- Simge

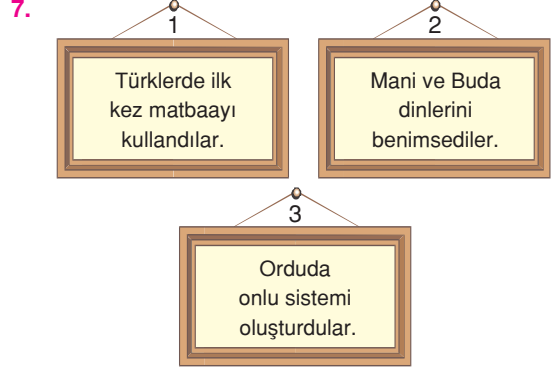
Yukarıdaki öğrencilerden hangisi, ilk Türk devletleri ile ilgili **yanlış** bir bilgi vermiştir?

- A) Ayşenur B) Özge
C) Selin D) Simge

6. 1. Orhun Yazıtları → İlk yazılı belgelerden biri
2. Oğuz Kağan Destanı → Kök Türkler
3. Yuğ → Ölü gömme töreni
4. Mete Han → İlk ordu örgütü

İslam öncesi Türk kültürü ile ilgili yukarıdaki eşleştirmelerden hangisi **yanlıştır**?

- A) 1 B) 2 C) 3 D) 4



Yukarıdaki tablolarda yazan bilgilerden hangilerinin Uygurlara ait olduğu söylenebilir?

- A) Yalnız 1 B) 1 ve 2
C) 2 ve 3 D) 1, 2 ve 3

8. Türkler, iklim değişikliği, salgın hastalıklar ve otlak yetersizliği nedeniyle Orta Asya'dan farklı coğrafyalara göç etmişlerdir.

Bu göçlerin sonuçları arasında aşağıdakilerden hangisi gösterilemez?

- A) Türkler gittikleri bölge toplumlarından etkilenmiştir.
B) Türk kültürü dünyanın değişik alanlarına yayılmıştır.
C) Orta Asya'daki Türk nüfusu artmıştır.
D) Çok sayıda Türk devleti kurulmuştur.

1. Orta Asya Türk Tarihi ile ilgili olarak aşağıdaki hangi öğrencinin vermiş olduğu bilgi doğru **değildir**?

A) Ekonominin temeli tarıma dayalıdır.



Eysan

B) Özel mülkiyet gelişmemiştir.



Cengiz

C) Ülke hanedanının ortak malı sayılmıştır.



Can

D) Sınıfsal farklılaşma belirgin değildir.



Hale

2.



Elçin

Orta Asya Türk tarihi ile ilgili ilk bilgileri, genellikle Çin kaynaklarından öğrenmekteyiz.

Elçin'in vermiş olduğu bu açıklamanın nedeni olarak aşağıdakilerden hangisi gösterilebilir?

- A) Yaşam tarzlarından dolayı yazı kültürünün fazla gelişmemesi
B) İkili devlet teşkilatına sahip olunması
C) Farklı dinlere inanılması
D) Ekonomilerinin hayvancılığa dayalı olması

3.

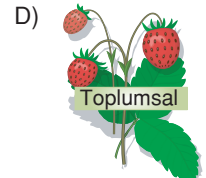

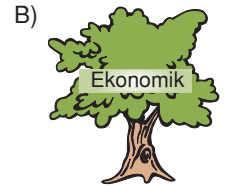
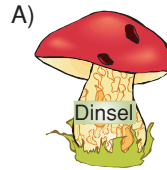
| | | |
|-------------------|---|---|
| Büyük Hun Devleti | → | Tarihte bilinen ilk Türk devletidir. |
| Kök Türkler | → | İpek Yolu egemenliği için Bizans'la ittifak kurmuşlardır. |
| ? | → | Kâğıdı ve matbaayı kullanmışlardır. |

Verilen eşleştirme tablosundaki “?” olan yere aşağıdakilerden hangisi getirilmelidir?

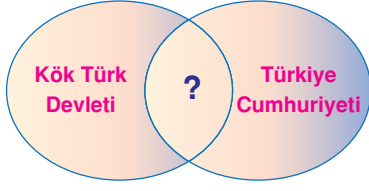
- A) İskitler
B) Uygurlar
C) Avrupa Hunları
D) Kutluk Devleti

4. Kavimler Göçü, Avrupa'da Roma İmparatorluğu'nun önce ikiye ayrılmasına, sonra da Batı Roma İmparatorluğu'nun yıkılmasına neden olmuştur. Romalıların etkili olduğu Avrupa topraklarında bugünkü Avrupa devletlerinin çekirdeğini oluşturan birçok devlet kurulmuştur.

Yukarıdaki anlatımın, Kavimler Göçü'nün hangi alandaki sonuçları ile **daha çok** ilgili olduğu söylenebilir?



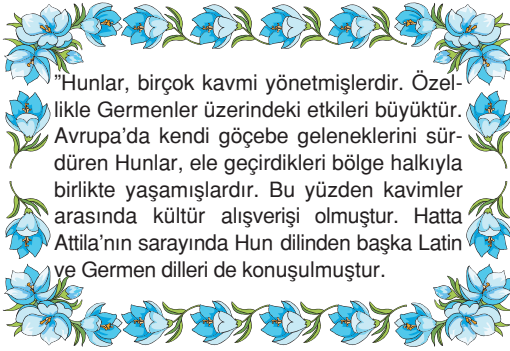
5.



Yukarıdaki şemada Kök Türk Devleti ile Türkiye Cumhuriyeti'nin ortak özelliği olarak "?" olan yere aşağıdakilerden hangisi yazılamaz?

- A) Ulusal devlet olmaları
- B) Türk dilini kullanmaları
- C) Ulusal egemenliğe dayanmaları
- D) Türk adı ile kurulmaları

6.



Tabloda yazan anlatıma bakılarak, Hunlarla ilgili aşağıdaki yargılardan hangisine ulaşılabilir?

- A) Kendi kültürel değerlerini yitirmişlerdir.
- B) Avrupa kültürünü Asya'ya taşımışlardır.
- C) Egemen oldukları bölgede kültürel etkileşimin oluşmasına ortam hazırlamışlardır.
- D) Avrupa kavimlerinin yerleşik yaşama geçmelerini sağlamışlardır.

7.



Türklerin Orta Asya'dan göç etmelerinin nedenlerinden hangisi, Türklerin ekonomik sıkıntı yaşadığının göstergesidir?

Sibel Öğretmen'in sorusuna öğrencilerden bazıları aşağıdaki cevapları vermiştir:

İklim koşullarının değişmesi nedeniyle, geçim kaynaklarının yetersiz kalması



Yusuf

Türk boyları arasında yaşanan mücadeleler



Hande

Bağımsızlık duygusu



Gökçe

Çin ve Moğol baskısı



Volkan

Buna göre, Sibel Öğretmen'in sorduğu soruya öğrencilerden hangisinin verdiği cevap doğrudur?

- A) Yusuf'un
- B) Hande'nin
- C) Gökçe'nin
- D) Volkan'ın

8. Aşağıdakilerden hangisi Türklerin göçebe yaşam sürmelerinin nedenleri arasında gösterilemez?

- A) Tarım alanlarının azlığı
- B) İklimin ve coğrafi koşulların uygunsuzluğu
- C) Yağışların yetersizliği
- D) Farklı kültürlerle etkileşime geçilmesi

1. Kavimler Göçü sonucunda;

- I. Roma İmparatorluğu'nun ikiye ayrılması,
- II. Germen kavimlerinin Hristiyanlığı kabul etmesi,
- III. Feodalite (derebeylik) rejimine uygun ortam hazırlanması,

gelişmelerinden hangileri dinsel özellik taşımaktadır?

- A) Yalnız I
B) Yalnız II
C) I ve II
D) II ve III

2.



Verilen eşleştirme tablosunda “?” olan yerlere sırasıyla aşağıdaki devletlerden hangileri yazılmalıdır?

- A) Uygurlar - Kök Türkler - Hunlar
B) Hunlar - Kök Türkler - Uygurlar
C) Uygurlar - Hunlar - Kök Türkler
D) Kök Türkler - Hunlar - Uygurlar

3. İslamiyet öncesi Türk devletlerinde;



durumları aşağıdakilerden hangisiyle açıklanabilir?

- A) Gök Tanrı inancının etkili olması



- B) Diğer kültürlerle etkileşim içinde olunması



- C) Göçebe yaşam tarzının benimsenmesi



- D) Adalet sisteminin gelişmesi



4. Büyük Hun Devleti'yle ilgili bilgilerden bazıları şunlardır:

- Orta Asya'da yaşayan bütün Türk boylarını egemenlikleri altına almışlardır.
- Çin üzerine yaptıkları seferlerde başarılı olmalarına rağmen Çin'e yerleşmeyip vergiye bağlanmışlardır.


Buna göre Büyük Hun Devleti ile ilgili aşağıdaki yargılardan hangisine ulaşamaz?

- A) Zaman içerisinde millî benliklerini kaybetmişlerdir.
B) Orta Asya Türk siyasi birliğini sağlamışlardır.
C) Gelir kaynaklarını artırmışlardır.
D) Çin üzerinde üstünlük kurmuşlardır.

5.

Kök Türklerin Türk tarihindeki en önemli özelliği, millet anlayışının Türklerde oluşmasına yol açmalarıdır.

Aşağıdakilerden hangisi, Kök Türklerin milliyetçi bir devlet olduğunu göstermez?



- A) Türklerin ilk millî alfabetini oluşturmaları
- B) İlk kez Türk adını taşıyan bir devlet olarak ortaya çıkmaları
- C) Türk boylarını bir bayrak altında toplamaya önem vermeleri
- D) Ülkeyi doğu ve batı olmak üzere iki koldan yönetmeleri

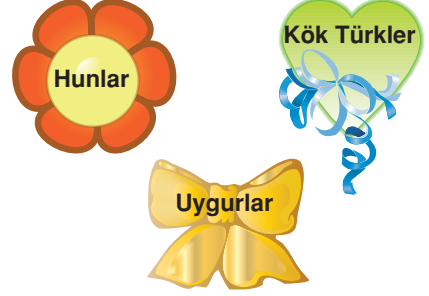
6.








Yukarıdaki diyagramda verilen numaralandırılmış durumlardan hangisi, Orta Asya Türk göçlerinin siyasi nedenini oluşturmaktadır?

- A) 1
- B) 2
- C) 3
- D) 4


7.



Yukarıda hangi semoller ile gösterilen Türk devletlerinin kendilerine özgü bir alfabesi bulunmaktadır?

- A) Yalnız 
- B) Yalnız 
- C) Yalnız 
- D)  ve 

8.



Asya Hun hükümdarı Mete, Çinlileri birçok kez yenmiş olmasına rağmen Çin'i istila etmemiştir. **Bu durumun nedenleri neler olabilir?**

Sosyal bilgiler öğretmeninin bu sorusuna, aşağıdaki öğrencilerden hangisi **yanlış** cevap vermiştir?

- A)  Hunların Türklüklerini yitirme ve Çinleşme korkusu
- B)  Çin'i yıllık vergiye bağlamanın daha yararlı olacağı düşüncesi
- C)  Çin'in askerî gücünden çekinilmesi
- D)  Çin'in nüfusu kalabalık ve geniş bir ülke olması

1. Hz. Muhammed, Hicret'ten sonra Medine'de bütün halkın görüşlerini alarak yazılı bir metin hazırlamıştır. Buna göre; adli ve askerî işlerde Hz. Muhammed tek yetkili olacak, Yahudiler Müslümanlarla eşit haklara sahip olacaklardı.

Bu durum;

- İslam devletinin temellerinin atıldığı
 - ♥ Demokratik bir tutum içinde bulunduğu
 - ◆ Arap milliyetçiliğinin ön plana çıktığı
 - ✿ Birlik ve bütünlüğün sağlanmaya çalışıldığı
- gelişmelerinden hangilerinin doğru olduğu düşüncesini desteklemez?**

- A) ● B) ♥ C) ◆ D) ✿

2.



Emeviler Dönemi'nde Halife Abdülmelik zamanında bütün İslam ülkelerinde resmî dilin Arapça olacağı belirtilmiştir.

Buna göre, Emeviler ile ilgili olarak;

- I. Arap milliyetçiliği politikası izledikleri,
 - II. Demokratik bir yönetim oluşturdukları,
 - III. Sosyal devlet anlayışını savundukları
- yargılarından hangilerine ulaşılabilir?**

- A) Yalnız I B) Yalnız II
C) I ve II D) II ve III

3. Emeviler Dönemi'nde İslam mimarisinde Bizans etkisi görülürken, Abbasiler Dönemi'nde Eski Doğu ve Sasani etkisi görülmüştür.

Buna göre, aşağıdaki yargılardan hangisine ulaşamaz?

- A) Farklı sanat anlayışlarının benimsendiğine
- B) Değişik kültürlerden etkilendiğine
- C) Yönetim anlayışının değiştiğine
- D) İslam mimarisinde dönemler arasında farklılıkların yaşandığına

4. **Dört Halife Dönemi'nde;**

- ▲ Suriye ve Filistin İslam egemenliği altına alınmıştır.
- Yalancı peygamberlerin ve kabilelerin ayaklanmaları bastırılmıştır.
- Ceyhun Irmağı'nda Batı Kök Türkler ile komşuluk ilişkileri başlamıştır.
- ★ Kerbelâ Olayı sonucu Sünnî ve Şii mezhepleri ortaya çıkmıştır.

Yukarıda hangi sembol ile gösterilen gelişmelerin içteki siyasal ve dinsel çatışmalarla ilgili olduğu söylenebilir?

- A) ▲ ve ■ B) ▲ ve ★
C) ■ ve ★ D) ■, ● ve ★

5. İslamiyet öncesinde Araplar kabileler hâlinde yaşadıkları ve kabileler arasında sürekli kan davaları görüldü. Köleciliğin yaygın olduğu Arabistan'da Araplar Haram aylarda Kabe'deki putları ziyaret ederlerdi.

Buna göre İslamiyet öncesi Arap Yarımadası ile ilgili;

- I. Çatışmalar yaşanmıştır.
- II. Eşitlik yoktur.
- III. Tek tanrılı inanç sistemi görülmektedir.

yargılarından hangilerine ulaşılabilir?

- A) Yalnız I B) I ve II
C) I ve III D) II ve III

6. Hz. Ebubekir Dönemi'nde Kur'an-ı Kerim'i ezbere bilenlerin sayısının giderek azalması üzerine, Hz. Muhammed'in vahiy kâtiplerinden Zeyd Bin Sabit başkanlığında kurulan bir heyetin çalışmaları sonucunda Kur'an-ı Kerim kitap hâline getirilmiştir.

Bu gelişme ile aşağıdakilerden hangisinin amaçlandığı ileri sürülebilir?

- A) Kur'an-ı Kerim'in özgün hâlinin korunmasının
B) Diğer dinlere inanışların sona ermesinin
C) Ekonomik ve sosyal yapının güçlenmesinin
D) Fetihlerdeki başarıların sürmesinin

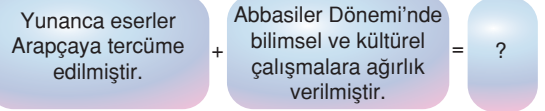
7.



Yukarıdaki tablolarda yazan gelişmelerden hangilerinin, Hz. Ömer Dönemi'ne ait olduğu savunulabilir?

- A) 1 ve 2 B) 2 ve 3
C) 1 ve 3 D) Yalnız 3

8.



Verilen diyagramda “?” ile gösterilen yere aşağıdakilerden hangisi getirilmelidir?

- A) İslam Rönesansı yaşanmıştır.
B) Diğer kültürlerin hâkimiyetine girilmiştir.
C) İslam uygarlığı Yunan uygarlığını etkilemiştir.
D) İslam uygarlığı Avrupa'yı etkilemiştir.

1.



Ali

Abbasiler Dönemi'nde Bağdat'ta büyük kütüphaneler kurulmuş, eski Yunan eserleri Arapçaya çevrilererek İslam Rönesansı başlamıştır.

Emeviler Dönemi'nde İslam devletinin sınırları İspanya'ya kadar genişlemiştir.



Ebru

Ali ve Ebru'nun verdiği bilgilere bakılarak aşağıdaki yargılardan hangisine **ulaşamaz**?

- A) Abbasilerin bilimsel ve kültürel çalışmalara önem verdiği
- B) Abbasilerin askerî alanda güçlü olduğu
- C) Emevilerin İslamiyet'in Avrupa'da yayılmasında etkili olduğu
- D) Emevilerin fetih politikasına önem verdiği

2.



Bahar

İslamiyet öncesi Arabistan'ın hangi özelliğinin, Araplar arasında ulusal kültür ve bilincin oluşmasında etkili olduğu söylenebilir?

?



Ayşegül

Bahar'ın bu sorusuna Ayşegül aşağıdaki seçeneklerden hangisini söylerse doğru cevap vermiş olur?

- A) Ukaz Panayırında çok yönlü etkinliklerin gerçekleşmesi
- B) Kabile yaşantısının sürdürülmesi
- C) Putperestliğin etkin olması
- D) Kervan ticaretinin sürdürülmesi

3.

Hiz. Muhammed zamanında bütün Müslümanlar Kur'an ayetlerini ezbere biliyorlardı. Savaşlar yüzünden Kur'an'ı ezbere bilenlerin sayısı azalınca Hiz. Ebu-bekir Kur'an ayetlerinin toplanmasına karar verdi.


Buna göre, Kur'an surelerinin toplanmasını;



hedeflerinden hangilerini gerçekleştirmeye yönelik olduğu söylenebilir?

- A) 1 ve 2
- B) 1 ve 3
- C) 2 ve 3
- D) 1, 2 ve 3

4.



Ben bir köleyim. İslamiyet ortaya çıktıktan sonra bu dini benimsemişim ve bu din benim gibi köleler arasında hızla yayıldı.

Yukarıdaki durum, İslamiyet'in daha çok hangi özelliği ile açıklanabilir?

- A) Temel kaynağının Kur'an olmasıyla
- B) Yapılmasını istediği bazı ibadetlerin olmasıyla
- C) Eşitlik anlayışını getirmesiyle
- D) En son ilahi din olmasıyla

5. Abbasiler, Emevilerden farklı olarak Türklerle iyi ilişkiler kurmuş, Türklere orduda önemli görevler vermişlerdir. Halife Mutasım Dönemi'nde Türk askerler için Bağdat yakınlarında Samerra kenti kurulmuş, ayrıca Türk askerleri Anadolu'da Bizans sınırında oluşturulan Avasım illerine sınır güvenliğini sağlaması için yerleştirilmişlerdir.

Verilen bilgilere göre Abbasilerle ilgili;

- I. Ümmetçi bir politika izledikleri
- II. Türklerin askerî yönünden faydalandıkları
- III. Bilimsel alanda gelişemedikleri

yargılarından hangilerine ulaşılabilir?

- A) Yalnız I
B) Yalnız II
C) I ve II
D) II ve III

6. Hz. Muhammed Dönemi'nde gerçekleşen Bedir Savaşı sonucunda;

- I. Savaşta elde edilen ganimetlerin beşte birinin hazineye, beşte dördünün ise savaşa katılanlar arasında paylaşılması
- II. Savaşı Müslümanların kazanması
- III. Savaşta Mekkeli putperestlerle mücadele edilmesi

gelişmelerinden hangileri İslam hukukuna temel oluşturmuştur?

- A) Yalnız I
B) Yalnız II
C) I ve II
D) II ve III

7. Hicret'ten sonra Hz. Muhammed Medine'de yaşayan Yahudilerle bir sözleşme yaptı. Medine Sözleşmesi'ne göre; Yahudiler Müslümanlarla eşit haklara sahip olacak, ibadetlerini serbestçe yapabilecek ve her türlü baskıya karşı korunacaklardı. Yahudiler de Müslümanlara düşmanlık yapmamayı ve Medine'ye bir saldırı olursa hep birlikte savunmayı kabul etmişlerdi.

Bu bilgiye göre;

- I. Medine'de birlik ve bütünlüğün sağlanmaya çalışıldığı
- II. Askerî gücün artırılmaya çalışıldığı
- III. Yeni bir devletin temellerinin atıldığı

yargılarından hangilerine ulaşılabilir?

- A) Yalnız I
B) Yalnız II
C) Yalnız III
D) I, II ve III

- 8.

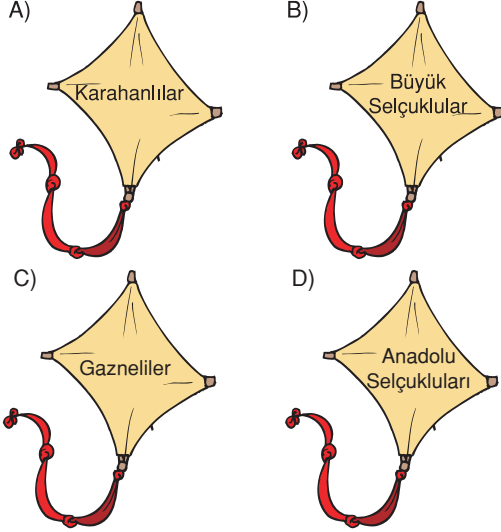


Yukarıdaki otobüs Hz. Ömer Dönemi'nde ülke sınırlarının genişlemesiyle yapılan örgütlenme çalışmalarının yazılı olduğu duraklarda duracaktır.

Buna göre otobüs kaç numaralı durakta durmalıdır?

- A) 1
B) 2
C) 3
D) 4

1. Üzerinde Müslümanlığı kabul etmesine karşın Türkçeyi resmî dil olarak kullanmayı sürdüren Türk-İslam devletinin bulunduğu uçurtma Elif'in uçurtmasıdır. Buna göre, hangi uçurtma Elif'in uçurtmasıdır?



2.

Malazgirt Savaşı'nı kaybeden Bizans'ın, Türklerin Anadolu'ya yerleşmesini tek başına engelleyemeyeceğini anladığını ileri süren bir tarihçi, bu görüşüne kanıt olarak aşağıdakilerden hangisini gösterebilir?



- A) Türklerle bir daha savaşmamasını
B) Anadolu'da İslamiyet'in giderek yaygınlaşmasını
C) Haçlılardan yardım istemesini
D) Anadolu'da ilk Türk beyliklerinin kurulmasını

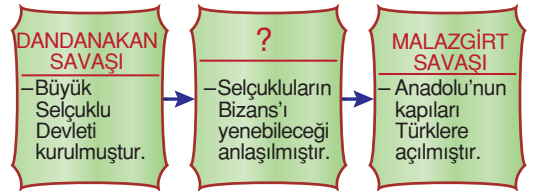
3.



Yukarıdakilerden hangisi ilk Müslüman Türk devletleri ağacının meyvelerinden biri değildir?

- A) 1 B) 2 C) 3 D) 4

4.



Verilen diyagramda “?” olan yere aşağıdakilerden hangisi getirilmelidir?

- A) Talas Savaşı B) Nesa Savaşı
C) Katvan Savaşı D) Pasinler Savaşı

5. Gazneli Mahmut'un,

- ✓ Âlim ve şairlerle özel olarak ilgilenmesi
- ✓ Biruni ve Firdevsi gibi bilginlere çalışmalarında destek olması

gelişmelerine bakılarak aşağıdakilerden hangisine ulaşılabilir?

- A) Hükümdarlığın babadan oğula geçtiği
- B) Sık sık saltanat kavgaları yaşandığı
- C) Devletin bilimsel ve kültürel gelişmelere katkı sağladığı
- D) Bilime önem verildiği hâlde sanata önem verilmediği

6. Büyük Selçuklu hükümdarı Tuğrul Bey, Abbasi halifesinin yardım çağrısı üzerine Bağdat'a giderek onu Şii Büveyhoğullarının baskısından kurtarmıştır. Bunun üzerine halife siyasi yetkilerini Tuğrul Bey'e terk ederek sadece din başkanı olarak kalmıştır.

Bu bilgiye bakılarak aşağıdaki yargılardan hangisine ulaşılabilir?

- A) Hükümdarın yetkilerinin kısıtlandığı
- B) Anadolu'nun Türkleşme ve İslamlaşma sürecinin hazırlandığı
- C) Veraset sisteminin değiştiği
- D) İslam dünyasının siyasi liderliğinin Türklere geçtiği

7. Gaznelilerde; sarayda ve orduda konuşulan dil Türkçe iken, resmî dil olarak Arapça; edebiyat dili olarak da Farsça kullanılmıştır.

Buna göre aşağıdaki yargılardan hangisine ulaşamaz?

- A) Yönetimde Türkler hâkimdir.
- B) Halkının tamamı Türklerden oluşmaktadır.
- C) Arap ve Fars kültüründen etkilenilmiştir.
- D) Ordunun büyük çoğunluğu Türklerden oluşmaktadır.

8.

Öğretmenim, ben Türk İslam kültürü hakkında bilgi edinmek istiyorum.

Bana hangi eserleri tavsiye edersiniz?



?

Buna göre Erol'un öğretmeni aşağıdaki eserlerden hangisini tavsiye edemez?

- A) Kutadgu Bilig
- B) Siyasetname
- C) Divan-ı Lügat'it Türk
- D) Orhun Kitabeleri

1.

Gazneliler Dönemi'nde, özellikle Hint seferlerinden elde edilen ganimetler ülkenin imarında kullanılmıştır. Gazneli Mahmut halka hizmet amacıyla köprüler, kervansaraylar ve su kemerleri yaptırmıştır.



İlhan

İlhan'ın bu açıklamasına göre, Gazneli Mahmut'un yönetim anlayışı hakkında aşağıdakilerden hangisi söylenebilir?

- A) Yöneticiler ile halk arasındaki bağların zayıfladığı
- B) Sosyal devlet anlayışının benimsendiği
- C) Devlet yönetiminde yabancılara da görev verildiği
- D) Hoşgörüyü dayanan bir siyasetin uygulandığı

2.

- I. Türkçeyi resmi dil ilan etmeleri
- II. Kervansaray ve medreseler yapmaları
- III. Hükümdarlarına han, hakan unvanını vermeleri

Yukarıda verilenlerden hangileri, Karahanlıların İslamiyet öncesi Türk kültürünü koruduklarının göstergesidir?

- A) Yalnız I
- B) I ve II
- C) I ve III
- D) II ve III

3. Gözde, Malazgirt Savaşı'nın sonuçları ile ilgili bir sunum hazırlıyor.

Buna göre, sunumunda aşağıdaki ifadelerden hangisini kullanırsa, **yanlış** bir bilgi vermiş olur?

A) Anadolu'da ilk Türk beylikleri kuruldu.

B) Anadolu'da Türklere tek başına karşı ko-yabilecek bir güç kalmadı.

C) Anadolu Moğol istilasına açık hâle geldi.

D) Türklerin Anadolu'ya yerleşmesi hız kazandı.

4. – Türklerin kitleler hâlinde İslamiyet'e girişlerinde.....Savaşı etkili olmuştur.
– Anadolu'nun kapıları Savaşı ile Türklere açılmıştır.

Verilen açıklamalarda boş bırakılan yerlere sırasıyla aşağıdakilerden hangileri getirilmelidir?

- A) Talas – Dandanakan
- B) Malazgirt – Köseadağ
- C) Dandanakan – Talas
- D) Talas – Malazgirt

5.



Yukarıdaki numaralandırılmış sandıklarda belirtilen savaşlardan hangisi Gazneliler ile Büyük Selçuklu Devleti arasında gerçekleşmiştir?

- A) 1 B) 2 C) 3 D) 4

6. Selçuklularda şehzadeler illere vali olarak gönderildiğinde yanlarına bilgili ve güvenilir bir komutan "atabey" olarak görevlendirilirdi. Atabeyler, Selçukluların son zamanlarında saltanat kavgalarından da yararlanarak buldukları yörenin yönetimini ele geçirdiler.

Aşağıdakilerden hangisi, bu bilgilerden çıkarılabilecek bir sonuç **değildir**?

- A) Şehzadelerin deneyim kazanmaları amaçlanmıştır.
B) Zaman zaman saltanat kavgaları yaşanmaktadır.
C) Selçuklularda merkezî devlet yapısı korunmuştur.
D) Atabeyler siyasi güç kazanmıştır.

7.

Türklerin İslam uygarlığına ekonomik anlamda yaptıkları hizmet hangisidir?


A) Haçlı ve Bizans saldırılarına karşı İslam topraklarını savunmaları

B) İslam uygarlığında etkili olan birçok bilim adamı ve sanatçı yetiştirmeleri

C) Önemli ticaret yollarının uzun süre İslam egemenliğinde kalmasını sağlamaları

D) Abbasi Devleti'nin varlığını bir süre korumaları

8. Aşağıdakilerden hangisi Türk - İslam bilim adamlarından biri **değildir**?



1. Selçuklularda edebiyat dili ve resmî dil olarak Farsça, medreselerde bilim dili olarak Arapça kullanılmıştır. **Bu durumun Selçuklularda ortaya çıkardığı sonuç aşağıdakilerden hangisidir?**

- A) Teşkilatlanma çalışmalarının durması
B) Devlet yönetiminin zorlaşması
C) Türkçenin gelişiminin yavaşlaması
D) Sosyal sınıf farklılıklarının görülmesi

2. **Haçlı Seferleri'nin sonucunda;**

- Haçlılar Kudüs'ü ellerinde tutamadı.
- Akdeniz ticareti canlandı.
- Pusula, kâğıt, matbaa gibi buluşlar Avrupa'ya taşındı.

Bu bilgilerde Haçlı Seferleri'nin hangi alandaki sonucuna değinilmemiştir?

- A) Dinî
B) Ekonomik
C) Toplumsal
D) Teknik

3. **Aşağıdaki Anadolu'da kurulan ilk Türk beylikleri ve kuruldukları yer eşleştirmelerinden hangisi yanlıştır?**

- A) Saltuklular → İzmir ve çevresi
B) Mengücekliler → Erzincan, Kemah
C) Danişmentliler → Tokat, Sivas, Malatya
D) Artuklular → Diyarbakır, Harput, Mardin

4.



Türkiye Selçuklu hükümdarı olan I. Gıyaseddin Keyhüsrev Dönemi'nde Antalya alınmış ve Venediklilerle ticaret antlaşması yapılmıştır.

Ekin'in verdiği bilgilere göre, I. Gıyaseddin Dönemi ile ilgili;

- I. Ticaretin geliştirilmeye çalışıldığı,
II. Eğitim – öğretimin ön planda tutulduğu,
III. Teokratik yönetim anlayışının benimsendiği
yargılarından hangilerine ulaşılabilir?

- A) Yalnız I
B) Yalnız II
C) I ve II
D) II ve III

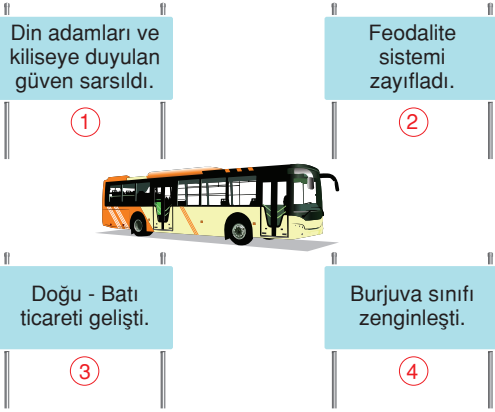
5.



Verilen diyagramda “?” olan yere aşağıdakilerden hangisi getirilmelidir?

- A) Pasinler
B) Malazgirt
C) Miryokefalon
D) Dandanakan

6.



Otobüs hangi perona uğrarsa Haçlı Seferleri'nin siyasi sonuçlarına ulaşmış olur?

- A) 1 B) 2 C) 3 D) 4

7. Anadolu Selçuklu Devleti Dönemi'nde gerçekleşen aşağıdaki gelişmelerden hangisinin uluslararası ticari ilişkileri geliştirme amacına yönelik olduğu söylenebilir?

- A) Yabancı tüccarlara gümrük kolaylıkları sağlanması
- B) Anadolu'da medrese ve darüşşifalar yapılması
- C) Türk beyliklerinin egemenlik altına alınması
- D) Harzemşahlarla savaşılması

8. Aşağıdaki mimari eserlerden hangisinin ticari amaçlı yapıldığı söylenebilir?

- A)  Karatay Medresesi
- B)  Malabadi Köprüsü
- C)  Konya Sarayı
- D)  Kervansaray

9.



Kösedağ Savaşı'ndan sonra Anadolu'da Selçuklu Devleti üzerinde yoğun bir Moğol baskısı kurulmuştur. Siyasal birliği çözülmüş ve merkezî otorite dağılmıştır. Özellikle Batı ve Kuzeybatı Anadolu'da (Uç bölgelerinde) zamanla Moğol baskısı azalınca Oğuz - Türkmen boyları tarafından çok sayıda beylik kurulmuştur. Bu beyliklerin hangileri olduğunu söyleyebilir misiniz?

Sosyal bilgiler öğretmenin sorduğu bu soruya aşağıdaki hangi öğrenci **yanlış** cevap vermiştir?

- A)  Osmanoğulları
- B)  Çaka Beyliği
- C)  Candaroğulları
- D)  Germiyoğulları

1. Haçlı Seferleri'nin;

- I. Avrupalıların Doğu'nun zenginliklerine ulaşma arzusu,
- II. Papanın sefere katılanlara cennet vaat etmesi,
- III. Bizans'ın Türklere karşı Avrupa'dan yardım istemesi,
- IV. Akdeniz ticaret yollarının ele geçirilmek istenmesi

nedenlerinden hangisi **siyasi** nitelik taşımaktadır?

- A) I B) II C) III D) IV

2. Anadolu Selçuklu Devleti'nde yaşanan aşağıdaki gelişmelerden hangisinde I. de verilenin II. ye ortam hazırladığı **savunulamaz**?

| I. | II. |
|---|---|
| A) II. Kılıçarslan'ın ülkeyi oğulları arasında paylaşması | Merkezî otoritenin güçlenmesi |
| B) Yassıçemen Savaşı'yla Harzemşahlara yıkılması | Anadolu'nun Moğol tehdidine açık hâle gelmesi |
| C) Sinop ve Alanya'nın alınması | Deniz ticaretinin gelişmesi |
| D) Köseadağ Savaşı'nın kaybedilmesi | Anadolu'da Türk siyasal birliğinin bozulması |

3. Anadolu Selçuklu Sultanı I. Alaaddin Keykubat devletin doğu sınırlarına kadar ilerlemiş olan Moğollarla iyi geçinmeye çalışmıştır. Bir yandan Moğol tehlikesine karşı doğudaki kalelerini onartıp en iyi komutanlarını ve askerlerini bölgeye göndermiş, bir taraftan da Harzemşahlar ve Eyyubilerle ittifak oluşturmuştur. **Bu bilgilere göre, I. Alaaddin Keykubat Dönemi ile ilgili aşağıdakilerden hangisine ulaşamaz?**

- A) Savunmaya önem verildiğine
B) Moğol tehlikesine karşı önlemler alındığına
C) Ordu içinde çatışmalar yaşandığına
D) Bazı devletlerle ittifaklar kurulduğuna

4.




Köseadağ Savaşı'ndan sonra II. Gıyaseddin Keyhüsrev, Moğollarla bir antlaşma imzalayarak her yıl vergi ödemeyi kabul etmiştir.

Sosyal bilgiler öğretmenin bu açıklamasına bakılarak aşağıdaki yargılardan hangisine ulaşılabilir?

- A) Selçuklulara bağlı devletler bağımsızlık kazanmıştır.
B) Anadolu, Moğol istilasına açık hâle gelmiştir.
C) Anadolu Selçuklu Devleti, Moğollara bağlı bir devlet hâline gelmiştir.
D) Anadolu'nun Türkleşme ve İslamlaşma süreci uzamıştır.

5.



Sevgili öğrenciler, Haçlı Seferleri'nin dinsel nedenleri nelerdir?

Sosyal bilgiler öğretmeninin bu sorusuna, aşağıdaki öğrencilerden hangisi **yanlış** cevap vermiştir?

- A) Hristiyanların kutsal yerleri geri almak istemeleri
- B) Derebeylerin doğuda toprak edinme istekleri
- C) Papanın etki alanını genişletmek istemesi
- D) Kluni tarikatının çalışmaları

6. Alaaddin Keykubat Dönemi'nde;

- Alanya kalesi alındı. Burada tersane kuruldu.
- Mengüceklere ve Artuklulara son verildi.

Yaşanan bu gelişmelere bakarak aşağıdaki çıkarımlardan hangisine **ulaşamaz**?

- A) Denizcilik alanlarında gelişmeler yaşanmıştır.
- B) Anadolu Türk siyasi birliği sağlanmaya çalışılmıştır.
- C) Ülke sınırları genişlemiştir.
- D) Akdeniz Türk gölü hâline gelmiştir.

7. Anadolu Selçuklu Devleti Dönemi'nde;

- ✿ Antalya ve Sinop limanları ele geçirilmiş,
- ✿ Doğu ve Güneydoğu Anadolu'daki Türk beylikleri hâkimiyet altına alınmış,
- ✿ Haçlı saldırılarına karşı konulmuştur.

Bu gelişmelere bakılarak;

- I. Anadolu'da Türk siyasi birliğinin sağlanmaya çalışıldığı,
 - II. Ticari amaçlı seferler düzenlendiği,
 - III. İslam dünyasının dinî liderliğinin ele geçirildiği
- yargılarından hangilerine ulaşılabilir?**

- A) Yalnız II
- B) I ve II
- C) I ve III
- D) II ve III

8. Anadolu Selçuklu hükümdarı II. Kılıçarslan Dönemi'nde 1176'da yapılan Miryokefalon Savaşı'nda Bizans büyük bir yenilgiye uğramış ve Anadolu'nun Türk yurdu olduğunu kabul etmek zorunda kalmıştır.





Bu bilgiye göre;

- I. Anadolu'daki Türk varlığı Bizans tarafından kabullenilmiştir.
- II. Bizans, Türkleri Anadolu'dan atma umudunu kaybetmiştir.
- III. Anadolu'da dinsel birlik sağlanmıştır.

yargılarından hangilerine ulaşılabilir?

- A) Yalnız I
- B) Yalnız II
- C) I ve II
- D) II ve III

1. ✨ İzmir ve çevresinde kurulmuştur.
✨ Denizcilikle uğraşan ilk Türk beyliğidir.
Yukarıda özellikleri verilen beylik aşağıdakilerden hangisidir?

- A)  Çaka Beyliği
- B)  Artuklular
- C)  Danişmentliler
- D)  Mengüceker

2.



1071 Malazgirt Savaşı'ndan sonra Anadolu'nun kapısı Türklere açılmıştır. Anadolu'da birçok beylik kurulmuştur.

Aşağıdakilerden hangisi bu beyliklerin özelliklerinden biri **değildir**?

- A) Anadolu'nun Türkleşmesini ve İslamlaşmasını sağlamışlardır.
B) Bölgelerini ticaret ve kültür merkezi hâline getirmişlerdir.
C) Hâkim oldukları toprakları, Avrupa'dan gelen Haçlılara karşı korumuşlardır.
D) Anadolu Türk birliğini kurmuşlardır.

3. Alaaddin Keykubat Dönemi'nde;

I Devlet sigortacılığı sisteminin getirilmesi,

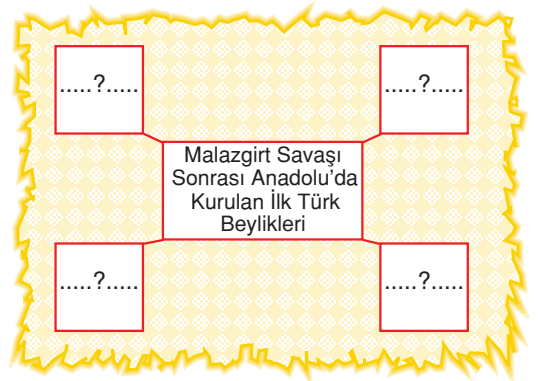
II Kervansaraylar yaptırılması,

III Moğollara karşı Harzemşahlar ve Eyyubilerle ittifak kurulması

gelişmelerinden hangilerinin ticari faaliyetleri artırmaya yönelik olduğu söylenebilir?

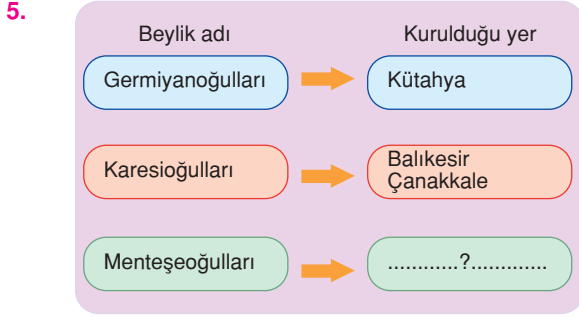
- A) Yalnız I
B) Yalnız II
C) Yalnız III
D) I ve II

4.



Verilen diyagramda “?” olan yerlere aşağıdakilerden hangisi **getirilemez**?

- A) Saltuklular
B) Danişmentliler
C) Aydınoğulları
D) Artuklular



Diyagramda boş bırakılan yere aşağıdaki seçeneklerden hangisi getirilirse doğru olur?

- A) Antalya B) Muğla
C) Sinop D) Maraş

6. ♥ Anadolu Selçuklu Devleti'nin başkentinin İznik'ten Konya'ya taşınması
♣ Anadolu'da huzur ve asayişin bozulması
♦ Türk - İslam kentlerinin tahrip olması
Haçlı Seferleri'nin yukarıda hangi sembol ile gösterilen sonuçları, Türkiye Selçuklu Devleti'nin bu seferlerden olumsuz yönde etkilendiğine kanıt olarak gösterilebilir?

- A) Yalnız ♥ B) Yalnız ♣
C) ♣ ve ♦ D) ♥, ♣ ve ♦

7. Anadolu Selçuklu Devleti ile yaptığı Miryokefalon Savaşı'nı kaybeden Bizans bu savaştan sonra Anadolu'yu Türklerden geri alma ümidini tamamen kaybetmiştir.
Bu bilgiye bakılarak aşağıdaki yargılardan hangisine varılabilir?

- A) İslam dünyasının dinî liderliğinin Türklere geçtiği
B) Anadolu'da Türk siyasi birliğinin sağlandığı
C) Anadolu'da Müslüman nüfusun azaldığı
D) Bizans'ın Anadolu'nun Türk yurdu olduğunu kabullendiği

8. I. Papa'nın nüfuzunu artırma isteği
II. Doğu ülkelerinin zenginliğini ele geçirme düşüncesi
III. Bizans'ın Türklere karşı Avrupa'dan yardım isteği
Haçlı Seferleri'nin yukarıda verilen nedenlerinin ilgili olduğu alanla eşleştirilmesi, aşağıdakilerden hangisinde doğru olarak verilmiştir?

| | Siyasi | Ekonomik | Dinî |
|----|--------|----------|------|
| A) | II | III | I |
| B) | III | II | I |
| C) | I | II | III |
| D) | III | I | II |

9.



Oktay

Sevgili arkadaşlar, Türk tarihinde çok önemli savaşlar yaşanmıştır. Bu savaşlardan biri Anadolu'nun kapısını Türklere açarken, diğeri de Anadolu'nun Türk yurdu olduğunu kesinleştirmiştir.

Oktay'ın özelliklerini anlattığı bu savaşlar aşağıdakilerden hangisinde doğru olarak verilmiştir?

- A) Malazgirt Savaşı – Miryokefalon Savaşı
B) Pasinler Savaşı – Köseadağ Savaşı
C) Malazgirt Savaşı – II. Kosova Savaşı
D) Dandanakan Savaşı – Katvan Savaşı

1.

Sultan Alparslan, Anadolu'nun hızlı bir şekilde fethedilmesini sağlamak amacıyla fethedilen yerleri komutanlarına vererek buralarda kendi beyliklerini kurmalarını sağlamıştır. Anadolu'da kurulan bu ilk Türk beyliklerinin özellikleri nelerdir?



Sosyal bilgiler öğretmenin bu sorusuna aşağıdaki öğrencilerden hangisi **yanlış** cevap vermiştir?

- A) Anadolu'nun Türkleşmesi ve İslamlaşmasında etkili olmuşlardır.
- B) Anadolu'da pek çok kültür ve sanat eseri yapmışlardır.
- C) Anadolu'da Türk siyasi birliğini sağlamışlardır.
- D) Hâkim oldukları toprakları Avrupa'dan gelen Haçlı saldırılarına karşı korumuşlardır.

2. Aşağıda Anadolu Selçuklu Devleti'ne ait bazı bilgiler sembollerle gösterilmiştir:

- ☘ Türkçeyi resmî dil olarak kabul etmişlerdir.
- ♥ Harzemşahlarla Yassıçemen Savaşı'nı yapmışlardır.
- ★ Köseadağ Savaşı'nda Moğollara yenilmeleri sonucu yıkılma sürecine girmişlerdir.
- * Anadolu'yu bir ticaret merkezi hâline getirmişlerdir.

Buna göre, hangi sembolle gösterilen bilgi **yanlış** olarak verilmiştir?

- A) ☘ B) ♥ C) ★ D) *

3.

- I Saltuklular
- II Artuklular
- III Karamanoğulları
- IV Mengücekerler

Yukarıdaki numaralandırılmış kutucuklardan hangisi Malazgirt Savaşı'ndan sonra Anadolu'da kurulan ilk Türk beylikleri arasında **yer almaz**?

- A) I B) II C) III D) IV

4.

Ben Selçuklu Sultanı II. Kılıçarslan! Döneminde, Danişment ve Mengüceklilere son verdim. Bizans'la Miryokefalon Savaşı'nı yaparak, Anadolu'nun kesin olarak Türk yurdu hâline gelmesinde etkili oldum. Sağlığımda ülkemi on bir oğlum arasında paylaştırdım...



Bu bilgilere bakılarak, II. Kılıçarslan'ın Dönemi ile ilgili olarak aşağıdakilerden hangisine **ulaşamaz**?

- A) Anadolu Türk siyasi birliğini sağlama çalışmalarında bulunmuştur.
- B) Selçuklu Devleti'nde ilk kez kurumsallaşma ve bayındırlık çalışmaları yapmıştır.
- C) "Ülke hanedanın ortak malıdır" anlayışına uygun hareket etmiştir.
- D) Anadolu'da üstünlüğün Türklere geçmesini sağlamıştır.

5. 1071 yılında Alparslan ve Romen Diyojen'in komuta ettiği Malazgirt Savaşı Büyük Selçuklu Devleti'nin galibiyetiyle sonuçlanmıştır. Alparslan bu zaferden sonra komutanlarını Anadolu'yu fethetmekle görevlendirmiş ve Anadolu'da ilk Türk beylikleri kurmuştur.

Bu bilgiye dayanarak aşağıdaki yargılardan hangisine ulaşamaz?

- A) Haçlı seferleri sona ermiştir.
B) Bizans'ın Anadolu'daki gücü sarsılmıştır.
C) Anadolu'nun Türkleşme süreci hızlanmıştır.
D) Büyük Selçuklu Devleti'nin sınırları genişlemiştir.

6. Anadolu, Moğol egemenliğine girmiştir.
Anadolu'da ticari faaliyetler zayıflamıştır.
Selçuklulara bağlı uç beyler zamanla bağımsızlıklarını kazanarak, buldukları yerlerde beylikler kurmuştur.
- Ebru
Ali
Evren

Kösedağ Savaşı'nın sonuçlarıyla ilgili olarak yukarıdaki öğrencilerin verdiği bilgilerden hangileri Anadolu'da Türk siyasi birliğinin bozulduğunun kanıtıdır?

- A) Yalnız Ebru
B) Yalnız Evren
C) Ebru ve Ali
D) Ebru ve Evren

7.

Anadolu Selçuklu Devleti'nde hanedanın bütün erkek üyelerinin tahta çıkarak devleti yönetme hakkı vardı. Kendilerine bir eyaletin yönetimi verilen hanedan mensuplarına melik denirdi. Meliklerin yetkileri kısıtlanmış durumdaydı. Askerî, idari, mali her türlü konu divanda görüşülürdü.



Elçin'in bu açıklamalarına göre, aşağıdaki yargılardan hangisine ulaşamaz?

- A) Hukukta birlik kurulamamıştır.
B) Merkezî otorite güçlü tutulmaya çalışılmıştır.
C) Devlet yönetiminde, divan önemli kurumlardan biri olmuştur.
D) Selçuklularda ülke hanedanın ortak malıdır.

8.



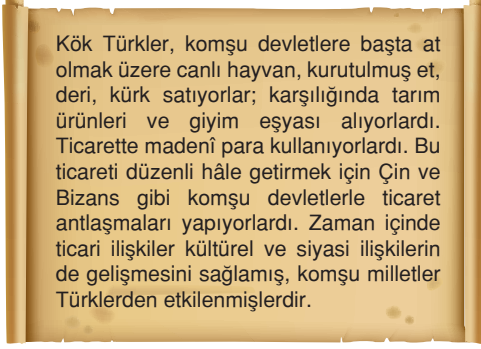
Ben Mengücek Gazi. Sultan Alparslan'ın emri ile Anadolu'da fetihlerde bulundum. Rumlarla, Gürcülerle savaştım ve fethettiğim yerleri Büyük Selçuklu Devleti hükümdarı Alparslan kendisine bağlı olman şartıyla bana verdiği söyledi.

Bu durumun, Anadolu'da;

- I. Taht kavgalarının yaşanmasına,
II. Selçuklu'nun otoritesinin zayıflamasına,
III. Fetihlerin artmasına
gelişmelerinden hangilerine neden olduğu söylenebilir?

- A) I ve II
B) Yalnız III
C) I ve III
D) II ve III

1.



Buna göre Kök Türk Devleti için aşağıdakilerden hangisi söylenebilir?

- A) Askerî yönden güçlü oldukları
- B) Gelişmiş bir ekonomik yapılarının olduğu
- C) Bizans ile savaş hâlinde oldukları
- D) Türklerin özelliklerine sahip çıkmadıkları

2. İpek Yolu, MÖ I. yüzyılda ortaya çıkmıştır. İpekli kumaşlar, Turfan, Kaşgar, Hotan ve Yarkent gibi önemli merkezlerde el değiştirerek Güney Rusya'ya getiriliyordu. İpek Yolu, buradan ikiye ayrılıyordu: Birinci yol, Hazar Denizi'nin kuzeyinden geçerek Avrupa'ya kadar ulaşıyor; ikinci yol ise İran üzerinden Suriye, Mısır ve Anadolu'ya kadar uzanıyordu.

Bu bilgilere göre İpek Yolu için;

- I. Farklı güzergâhlarının olduğu,
 - II. Türklerin kontrolünde olmadığı,
 - III. Zamanla öneminin ortadan kalktığı
- yorumlarından hangilerine ulaşılabilir?

- A) Yalnız I
- B) I ve II
- C) I ve III
- D) I, II ve III

3. Aşağıdaki öğrencilerin söylediklerinin doğru olması durumunda ampuller “yeşil”, yanlış olması durumunda “kırmızı” yanmaktadır.

I. Türkler İpek Yolu'nu ele geçirmek için Çinliler ile mücadele etmişlerdir.



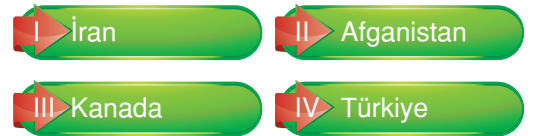
II. Çinli'lerin yaptığı porselen İpek yolu ile dünyaya yayılmıştır.



Buna göre numaralı sistemlerdeki ampullerin renkleri aşağıdakilerden hangisinde doğru olarak verilmiştir?

- | | I. | II. |
|----|----|-----|
| A) | | |
| B) | | |
| C) | | |
| D) | | |

4.



İpek Yolu üzerinde yolculuk yapan bir tüccar günümüzdeki hangi ülkenin topraklarından geçmez?

- A) I
- B) II
- C) III
- D) IV

5. Türklerin ticaret alanında en çok ilişkide bulunduğu devlet komşuları Çin'dir. Çinlilere canlı hayvan, deri, kösele, kürk, tereyağı ve peynir satarlardı. Bunun karşılığında başta yiyecek maddeleri olmak üzere, giyim eşyaları satın alırlardı. Çin'den başlayarak Akdeniz kıyılarında sona eren İpek Yolu'nun büyük bir bölümü Türklerin sahip olduğu topraklar üzerinden geçiyordu. **Buna göre, aşağıdaki yargılardan hangisine ulaşamaz?**

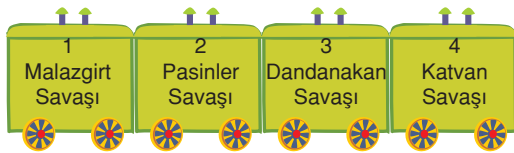
- A) Türklerin hayvancılıkla uğraştığı
B) Türklerin Çinlilerle ekonomik ilişkilerinin olduğu
C) Çinlilerin Türklerle giyim kuşam eşyaları sattığı
D) Çinlilerin İpek Yolu'nu ele geçirmeye çalıştığı

6. İyonyalılar ticaret yoluyla Fenikelilerden harf yazısını öğrenmişlerdir. Öğrendikleri harf yazısının ticaret yoluyla Yunan uygarlığına oradan da Roma'ya geçmesine ve Latin alfabesinin oluşumuna katkı sağlamışlardır.

Bu bilgilere göre, ticaretin aşağıdakilerden hangisinin oluşumunda etkili olduğu söylenebilir?

- A) Yönetim şekillerinin belirlenmesi
B) Yerleşik yaşama geçilmesi
C) Kültürel etkileşimin yaşanması
D) Toplumlar arasında eşitliğin sağlanması

7.



Büyük Selçuklu Devleti döneminde gerçekleşen yukarıdaki savaşların kronolojik sıralaması için trenin vagonlarından hangilerinin yer değiştirmesi gerekmektedir?

- A) 1 ve 3
B) 2 ve 3
C) 1 ve 4
D) 2 ve 4

8. "Kasabalar ve تنها yol kıyılarına yolcular için kervansaray yaptırır, yollar açtırırlar. Su olmayan yerlere çeşmeler ve tuvaletler yaptırırlar. Halkın bedava olarak faydalandığı bu yapılar öyle muhteşemdir ki saraya benzerler. Buralardan istifade edenler "Allah yaptırandan razı olsun." demeden edemezler. Sadece insanlara değil, hayvanlara da yapılan iyilik çok büyük sevaptır.

M. Serrano Y.Sanz

Yukarıdaki seyahatın gözüyle Türkler için;

- I. Halkın ihtiyaçlarını karşılamaya yönelik yapılar inşaa etmişlerdir.
II. Sosyal devlet anlayışını benimsemişlerdir.
III. Ticaret ve ulaşımına önem vermişlerdir.
IV. Halkın ihtiyaçlarını karşılamak için halktan vergi almışlardır.

yukarıdaki yargılardan hangisine ulaşamaz?

- A) I
B) II
C) III
D) IV

9. Baharat Avrupa'ya iki yolla gelirdi. Birisi Orta Asya üzerinden geçen İpek yolu idi. Diğerisi ise, Hindistan'dan Kızıldeniz veya Basra Körfezi'ne gelen deniz yolu idi. Bu kıyılardaki limanlara gelen gemiler yüklerini boşalttıktan sonra kara yoluyla Akdeniz kıyılarına ulaştırılır, oradan da deniz yoluyla Avrupa'ya taşınırdı.

Avrupalılar baharat üreten ülkelere ulaşmanın yollarını aradılar. Sonunda da bulmayı başardılar. Aşağıdaki kâşiflerden hangisi bu yolu bulmuştur?

- A) Vasco de Gama
B) Macellan
C) Kristof Kolomb
D) Amerika Vespucci

1. İslamiyet öncesi Türk devletlerinde görülen "Devlet hükümdar ailesinin ortak malıdır." anlayışının aşağıdakilerden hangisine ortam hazırladığı söylenebilir?

- A) Taht kavgalarının yaşanmasına
- B) Ekonomik faaliyetlerin güçlenmesine
- C) Halkın devlete bağlılığının artmasına
- D) Sosyal devlet yapısının zayıflamasına

2. Türklerin Orta Asya'dan hareketle batıya ilerleyişleri neticesinde Avrupa'ya kadar gelmesi tarihin seyrini de önemli ölçüde etkilemiştir.

Aşağıdakilerden hangisi, bu yargıya kanıt olacak gelişmeler arasında yer almaz?

- A) Roma İmparatorluğu'nun ikiye ayrılması
- B) Kavimler Göçü'nün yaşanması
- C) Uygurların yerleşik hayata geçmesi
- D) Avrupa'da feodal sistemin başlaması

3. Orta Asya'da kurulan Türk devletlerinin yıkılma nedenlerinden bazıları şunlardır:

- I. Hanedan üyeleri arasındaki taht mücadeleleri
- II. Çin'in saldırıları
- III. İpek Yolu'nun kontrollerinden çıkması

Bu gelişmelerden hangileri ekonomik gücün devletin devamını sağlamakta önemli bir etken olduğunun göstergesidir?

- A) Yalnız I
- B) Yalnız III
- C) I ve II
- D) I, II ve III

4. I. İlk İslam donanmasının oluşturulması
II. Kur'an'ın kitap hâline getirilmesi
III. Hakem Olayı'nın yaşanması

Yukarıda verilen gelişmelerin ilgili olduğu dönemlerle eşleştirilmesi aşağıdakilerden hangisinde doğru olarak verilmiştir?

| | <u>Hz. Ebubekir</u> | <u>Hz. Osman</u> | <u>Hz. Ali</u> |
|----|---------------------|------------------|----------------|
| A) | II | I | III |
| B) | III | II | I |
| C) | I | III | II |
| D) | II | III | I |

5. Uygurlar din değiştiren ilk Türk toplumdur. Gök Tanrı inancından Maniheizm'e geçiş yapmışlardır. Maniheizm dini tapınak gerektirdiği için Uygurlar bu dinin de etkisi ile yerleşik yaşama geçmişlerdir.

Bu bilgiye dayanarak Uygurlar ile ilgili;

- I. Dinsel yapıda değişiklik yapmışlardır.
- II. Mimaride gelişme göstermemişlerdir.
- III. Hayvancılıkla uğraşmışlardır.

yargılarından hangilerine ulaşılabilir?

- A) Yalnız I
- B) Yalnız III
- C) II ve III
- D) I, II ve III

6. Hunlar Mete Han zamanında en güçlü seviyelerine ulaşmışlardır. Mete Han Çin Seddi'ni aşan ilk Türk hükümdarıdır. Ancak Çinliler ile yaşamak istememiş, o bölgeye yerleşmeyerek, Çin'i vergiye bağlamıştır. **Bu durumun temel nedeni aşağıdakilerden hangisidir?**

- A) Kendi yurtlarına düşkün olmaları
B) Millî benliklerini kaybetmekten korkmaları
C) Kültür çatışması yaşamak istememeleri
D) Çin'in çok kalabalık olması

7. Hz. Muhammed ve beraberindeki Müslümanların 622 yılında Mekke'den Medine'ye yaptığı göçe "Hicret" denir.

Aşağıdakilerden hangisi Hicret'in sonuçlarından biri değildir?

- A) Müslümanlar Mekkelilerin baskısından kurtulmuştur.
B) Medine'de başkanlığını Hz. Muhammed'in yaptığı ilk İslam Devleti kurulmuştur.
C) Müslümanlar dinlerini özgürce yaşama imkânına kavuşmuştur.
D) İslamiyet'in yayılma alanı daralmıştır.

8.



Dönemim, ülkemizin en parlak dönemi oldu. Devletimiz en geniş sınırlarına ulaştı. Bilgin, şair ve din adamlarını koruyup destekledim. Kendi adıma Celali takvimi düzenlettim.

Bu açıklamaları yapan Türk hükümdarı, aşağıdakilerden hangisidir?

A)



Bilge Kül Kadir Han

B)



Gazneli Mahmut

C)



Tuğrul Bey

D)



Melikşah

9. – İslamiyet'i kabul etmelerine rağmen eski Türk geleneklerini devam ettirmişlerdir.
– Hükümdarlarına "han, hakan, kağan" unvanlarına vermişlerdir.
– Türkçeyi resmî dil ilan etmişlerdir.

Yukarıda verilen özellikler Türk İslam devletlerinden hangisine aittir?

- A) Büyük Selçuklulara
B) Gaznelilere
C) Karahanlılara
D) Anadolu Selçuklu Devleti'ne

10. Uygurlara ait aşağıdaki özelliklerden hangisinin daha önceki dönemlerde de Türk topluluklarının özellikleri arasında olduğu söylenebilir?

- A) Kut anlayışına sahip olmaları
- B) Kâğıt ve matbaayı kullanmaları
- C) Okullar açmaları
- D) Tapınaklar inşa etmeleri

11. Avrupa Hun Devleti hükümdarı Atilla ile Bizans İmparatoru arasında yapılan Anatolyos Barışı'na göre;

- Bizans'ın ödediği vergi üç katına çıkacak.
- Bizans savaş tazminatı ödeyecek.
- Tuna'nın güneyinde beş günlük mesafedeki yerler askerden arındırılacaktır.

Bu bilgiye dayanarak;

- I. Hun Devleti Bizans'a karşı üstünlük sağlamıştır.
- II. Avrupa Hun Devleti ekonomik yönden güç kazanmıştır.
- III. Bizans ve Hun Devleti arasındaki ilişkiler sona ermiştir.

yargılarından hangilerine ulaşılabilir?

- A) Yalnız I
- B) Yalnız II
- C) I ve II
- D) II ve III


12.

| Neden | Sonuç |
|--|--|
| I. Dış baskılara açık olması | Savaşçılığı ve askerliği ön plana çıkarmıştır. |
| II. Temel geçim kaynağının hayvancılık olması | Göçebe ve yarı göçebe bir hayat yaşamalarına neden olmuştur. |
| III. Ülkenin hükümdar ailesinin ortak malı sayılması | Köleciliğin oluşmasını engellemiştir. |

Tablodaki eski Türklere ait verilen neden - sonuç eşleştirmelerinden hangileri yanlıştır?

- A) Yalnız I
- B) Yalnız III
- C) I ve II
- D) II ve III

13. "İslamiyet öncesinde göçebe hayatı benimseyen Türklerin hangi alanda geliştikleri söylenemez" şeklindeki sınav sorusuna;



öğrencilerden hangilerinin verdiği yanıt doğrudur?

- A) Yalnız Evren
- B) Evren ve Zühre
- C) Yalnız Zühre
- D) Evren ve Burak